






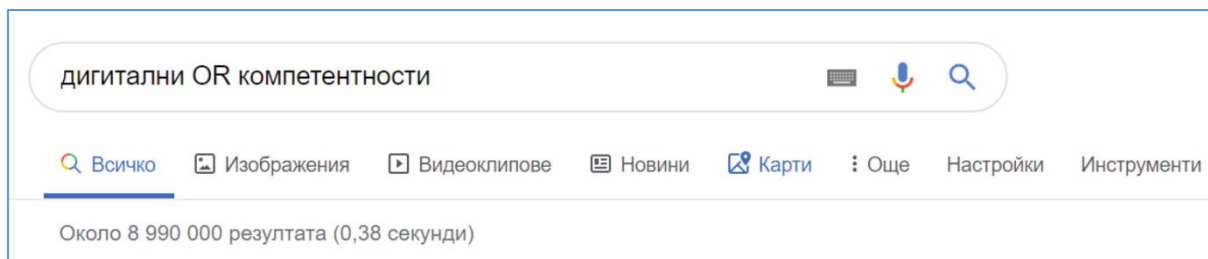
Задачи с избираем отговор, с четири възможни отговора, от които точно един е верен

1. Разполагате с **4 минути** за прикачване на информация в онлайн хранилище със свободно място 2 ГБ. Скоростта на пренос е 54 Мбит/с, а информацията, която се прикачва, е 1280 МБ. Отбележете вярното.
 - А) Времето не стига, но има достатъчно място.
 - Б) Времето не стига и мястото не е достатъчно.
 - В) Времето е достатъчно, мястото не е достатъчно.
 - Г) Времето е достатъчно и мястото е достатъчно.
2. В кой ред са изброени основните информационни дейности?
 - А) събиране, съхранение, обработка, разпространение
 - Б) преименуване, копиране, преместване, изтриване
 - В) въвеждане, редактиране, копиране, маркиране
 - Г) навигиране, ускоряване, престрояване, изпреварване
3. В кой ред има несъответствие между разширението и типа информация, който се съхранява в него?
 - А) eps – векторна графика
 - Б) wma – аудиоинформация
 - В) ods – текст
 - Г) jar – изпълним код
4. В кой ред посоченият компонент е свързан правилно със съответното поколение компютри, за което е характерен?
 - А) електронни лампи – трето поколение компютри
 - Б) микропроцесори – четвърто поколение компютри
 - В) интегрални схеми – второ поколение компютри
 - Г) транзистори – първо поколение компютри
5. Контролните панели на един компютър показват следната информация:
Intel(R) Core(TM) i5-4440 CPU @ 3.10GHz 3.10 GHz
16,0 GB (15,7 GB usable)
64-bit Operating System, x64-based processor
Каква е честотата на процесора?
 - А) 3.10
 - Б) 16
 - В) 64
 - Г) 4440
6. Лиценз със съответстващ знак  обозначава:
 - А) публичен лиценз
 - Б) творческо споделяне
 - В) запазени права
 - Г) запазена марка
7. Кое твърдение е вярно определение за линеен е алгоритъм?
 - А) Инструкциите се изпълняват последователно една след друга.
 - Б) Инструкциите се изпълняват след проверка на логическо условие.
 - В) Инструкциите се изпълняват с многократно повторение.
 - Г) Инструкциите не се изпълняват, а само се маркират.

8. Искате да създадете електронно пространство за дискусии по темите на школата по ИТ. Какъв тип блог е най-подходящо да създадете?
- А) личен блог
 - Б) корпоративен блог
 - В) видео блог
 - Г) тематичен блог
9. Кое приложение, обозначено чрез иконата си, **НЕ** предлага възможност за обмен в реално време на текст, звук, видео и файлове?
- А) 
 - Б) 
 - В) 
 - Г) 
10. Ако получите съобщение, че се опитвате да достъпите подозрителен уебсайт, безопасно ли е да го разгледате, без да натискате никакви връзки и икони?
- А) Да, опасност от заразяване има само след натискане на клавиш или след клик на мишката.
 - Б) Не, опасност от заразяване има дори когато само заредите подозрителната страница.
 - В) Да, простото разглеждане е напълно безвредно и не носи заплаха.
 - Г) Не, защото вече сте се заразили, след като сте прочели съобщението.

Задачи с избираем отговор, с четири възможни отговора, от които два са верни

11. За да реши дали да се явява на външно оценяване по дигитални компетентности, ученик използва машина за търсене в интернет, като въвежда заявката от изображението. В списъка с резултати ще се изведат: *(Изберете два отговора.)*



- А) всички статии, които съдържат една от думите „дигитални“ или „компетентности“
- Б) всички статии, които съдържат и двете думи – „дигитални“ и „компетентности“
- В) само статии, които съдържат словосъчетанието „дигитални компетентности“
- Г) само статии, които съдържат точно една от двете думи – „дигитални“ или „компетентности“

12. Ива, Алекс и Мира работят в екип по проект. Ива е изготвила презентация за представяне на екипа и трябва да я изпрати на Алекс и Мира за преглед, но не е сигурна дали те имат инсталиран MS PowerPoint на компютрите си. Как да постъпи Ива, за да е сигурна, че Алекс и Мира ще могат да разгледат презентацията?

(Изберете два отговора.)

- А) да запази презентацията като PowerPoint слайдшоу
- Б) да запази презентацията като шаблон
- В) да запази презентацията в pdf формат
- Г) да запази презентацията във видео формат

13. Какви файлове е уместно да се публикуват в социални мрежи?

(Изберете два отговора.)

- А) което ми се струва забавно и интересно
- Б) които няма да засегнат други хора
- В) които не съдържат лични данни
- Г) които ми се струват важни и полезни

14. От компютър се опитвате да отпечатате документ на мрежов принтер, но не успявате.

Къде са изброени възможни причини за възникване на проблема? (Изберете два отговора.)

- А) Принтерът е изключен и не е свързан към мрежата, няма тонер, не е заредена хартия.
- Б) Принтерът е разположен на друг етаж, в отдалечена стая и там няма хора.
- В) Компютърът компилира програма, която също има възможност да отпечатва на принтер.
- Г) Компютърът не е свързан към мрежата и на него не е инсталиран драйвер за принтера.

Задача със свободен отговор

15. Какво ще се визуализира в клетката с адрес **F6** в електронната таблица от изображението след копиране в нея на формулата от клетка **F4**?

SUM							
	A	B	C	D	E	F	G
1	работник	изработени часове за месец май	Сума за получаване за месец май	изработени часове за месец юни	Сума за получаване за месец юни	Сума за получаване за месеци май и юни	
2	Георги Лалков	45	900 лв.	94	2 350 лв.	3 250 лв.	
3	Иван Петров	80	1 600 лв.	73	1 825 лв.	3 425 лв.	
4	Марин Стоилов	28	560 лв.	110	2 750 лв.	=B4*\$C\$9+D4*\$E\$9	
5	Петър Ангелов	79	1 580 лв.	111	2 775 лв.		
6	Стефан Илиев	120	2 400 лв.	80	2 000 лв.		
7	Стоимен Великов	56	1 120 лв.	144	3 600 лв.		
8							
9		Ставка на час за месец май	20 лв.	Ставка на час за месец юни	25 лв.		
10							
11							

ОТГОВОРИ

Въпрос	1	2	3	4	5	6	7	8	9	10	11	12	13	14	15				
Отговор	Г	А	В	Б	А	Г	А	Г	В	Б	А	Б	В	Г	Б	В	А	Г	4400 лв.