

ТЕСТ ЗА ВХОДНО НИВО ЗА 8. КЛАС – 1

Име, фамилия _____ клас _____ № _____

1. По какво се различават планетите от Слънчевата система?

- А) по формата
В) по разстоянието от Слънцето
Б) по движенията, които извършват
Г) по източника на светлина

2. Коя е причината, поради която слънчевите лъчи падат под различен ъгъл на земната повърхност?

- А) водната обвивка на Земята
В) кълбовидната форма на Земята
Б) въздушната обвивка на Земята
Г) малката повърхност на Земята

3. Кое твърдение е вярно?

- А) Земята е кълбо, леко изпъкнало при полюсите и сплеснато при Екватора.
Б) Смяната на деня и нощта е резултат от обикалянето на Земята около Слънцето.
В) На 22 декември в Южното полукълбо започва лятото.
Г) Земята се върти около оста си от изток на запад.

4. Коя част от вътрешния строеж на Земята е с най-голям обем, а веществото в нея е в полуразтопено състояние?

- А) мантията
В) външното ядро
Б) вътрешното ядро
Г) земната кора

5. Запишете кои от външните обвивки на Земята разпознавате на изображението.



6. При утаяване и уплътняване на скални частици и останки от живи организми се образува:

- А) мрамор
В) варовик
Б) гранит
Г) руда

7. Кое е общото за формите на релефа: вулкански конус, обширна равнина, планинска верига, дълбока депресия?

- А) Имат сходно териториално разположение.
Б) Образувани са от вътрешните земни сили.
В) От древността са добре стопански усвоени.
Г) Резултат са от действието на външните земни сили.

8. Запишете географските понятия, за които се отнасят определенията. Всички те с коя външна обвивка на Земята са свързани?

_____ – Движения на океанската и морската вода, които са предизвикани от вятъра, земетръсната или вулканичната дейност.

_____ – Графично изображение, което показва изменението на речното ниво на определено място за определен период от време.

_____ – Плитка негативна форма на релефа, запълнена със застояла вода и обрасла с влаголюбива растителност.

Външната обвивка е _____.

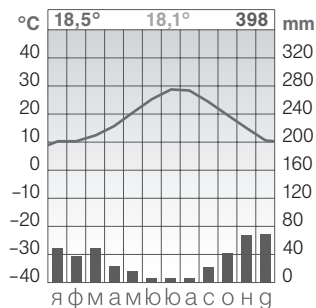
9. Коя форма на релефа е представена на изображението?



10. Кое е общото за находищата на нефт и природен газ: в Сахара, по крайбрежието на Гвинеийския и Персийския залив и на въглища: на полуостров Индостан, в Апалачите и южните части на Западносибирската низина?

11. Ако за едно денонощие най-високата измерена температура е 25°C, а най-ниската е 13°C, то каква е денонощната температурна амплитуда?

12. Коя от характеристиките НЕ се отнася за климатичния пояс от климатограмата?



- А) мека и влажна зима
- Б) субполярен климатичен пояс
- В) сухо и горещо лято
- Г) валежи предимно от дъжд

13. Кое твърдение за топлите океански течения е ГРЕШНО?

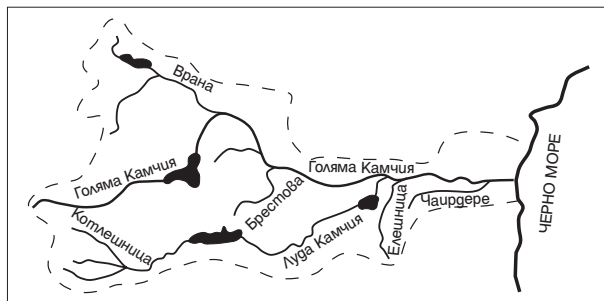
- А) Повечето се движат от Екватора на север и на юг.
- Б) Пренасят вода с по-висока температура.
- В) По крайбрежията, край които минават, климатът е по-влажен.
- Г) Те са причина за образуването на пустини.

14. В коя група са изброени всички видове води на сушата?

- А) ледници, езера, подземни води, реки, блата
- Б) крайбрежни морета, реки, блата, ледници
- В) извори, устия, реки, езера, подземни води
- Г) езера, морета, реки, ледници, блата

15. Кое от заглавията е най-подходящо за картосхемата?

- А) Лонгозът на река Камчия
- Б) Водосборният басейн на река Камчия
- В) Пълноводие и маловодие на река Камчия
- Г) Десни притоци на река Камчия



16. Допълнете липсващото понятие.

Около тропиците в условията на малко валежи, високи температури и оскъдна растителност се образуват бедните на хранителни вещества почви, наречени _____.

17. Подредете с цифри от 1 до 6 последователността, по която се описват природните особености на природна зона.

- _____ растителност
- _____ води
- _____ релеф
- _____ почви
- _____ животински свят
- _____ климат

18. За кой от континентите природната зона от изображението НЕ е типична?

- А) Северна Америка
- Б) Австралия
- В) Азия
- Г) Европа



19. Заради човешката дейност на всеки 20 минути от лицето на Земята изчезва един растителен или животински вид. Възможно е процесът да се ограничи чрез създаването на територии като „Серенгети“ (Африка), „Йелоустоун“ (Северна Америка), „Централен Балкан“ (Европа), които са със статут на:

- | | |
|--------------------|------------------|
| А) защитено място | Б) резерват |
| В) национален парк | Г) местообитание |

20. Природните фактори са сред основните, които определят развитието на стопанска дейност като:

- | | |
|----------------|------------------------------------|
| А) електроника | Б) целулозно-хартиена промишленост |
| В) образование | Г) банково и застрахователно дело |

Максимален възможен брой точки: _____ Индивидуален брой точки: _____

По скалата за оценяване от _____ до _____ точки. Оценка: _____

Подпис на учителя: _____

ТЕСТ ЗА ВХОДНО НИВО ЗА 8. КЛАС – 2

Име, фамилия _____ клас _____ № _____

1. Какво отличава Земята от другите планети в Слънчевата система?
А) въртенето около оста
Б) големината
В) обикалянето около Слънцето
Г) източникът на светлина
2. Коя е причината в различните географски ширини нагряването на земната повърхност да е различно?
А) голямата повърхност на Земята
Б) кълбовидната форма на Земята
В) въздушната обвивка на Земята
Г) растителната покривка на Земята
3. Кое твърдение е ГРЕШНО?
А) Земята се върти около оста си от запад на изток.
Б) Смяната на сезоните е резултат от обикалянето на Земята около Слънцето.
В) На 22 юни в Южното полукълбо започва лятото.
Г) Земята е кълбо, леко изпъкнало при Екватора и сплеснато при полюсите.
4. Коя обвивка от вътрешния строеж на Земята е твърда, по-тънка под океаните и най-дебела под високите планини?
А) земната кора
Б) външното ядро
В) вътрешното ядро
Г) мантията
5. Запишете кои от външните обвивки на Земята разпознавате на изображението.



6. При застиване и втвърдяване на огнетечното вещество, идващо от горната мантия, се образува:
А) нефт
Б) варовик
В) гранит
Г) мрамор
7. Кое е общото за формите на релефа: *пещера, пролом, речна долина, пясъчна пустиня*?
А) Имат сходно териториално разположение.
Б) Образувани са от външните земни сили.
В) От древността са добре стопански усвоени.
Г) Резултат са от действието на вътрешните земни сили.
8. Запишете географските понятия, за които се отнасят определенията. Всички те с коя външна обвивка на Земята са свързани?

_____ – Древен континент, обединявал сушата на съвременните континенти Европа, Азия и Северна Америка.

_____ – Явление, породено от внезапното и бързо разтърсване на земната кора.

_____ – Изхвърлянето на лава върху земната повърхност.

Външната обвивка е _____.

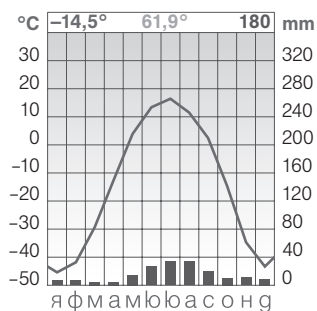
9. Коя форма на релефа е представена на изображението?



10. Кое е общото за находищата на селитра в пустинята Атакама, на фосфорити в Атласките планини, на каменна и калиева сол в Източноевропейската равнина?

11. Ако за едно денонощие най-високата измерена температура е 32°C, а най-ниската е 11°C, то каква е денонощната температурна амплитуда?

12. Коя от характеристиките НЕ се отнася за климатичния пояс от климатограмата?



- А) субполярен климатичен пояс
- Б) валежи предимно от сняг
- В) дълга, много студена зима
- Г) кратко, горещо лято

13. Кое твърдение за студените океански течения е вярно?

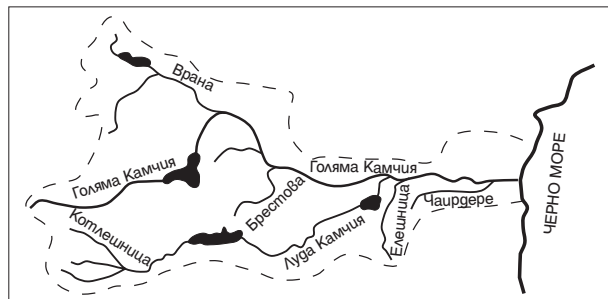
- А) Повечето се движат от Екватора на север и на юг.
- Б) Пренасят вода с по-висока температура.
- В) По крайбрежията, край които минават, климатът е по-топъл.
- Г) Те са причина за образуването на крайбрежни пустини.

14. Коя двойка НЕ са видове води на сушата?

- А) подземни води и реки
- Б) морета и океани
- В) езера и блата
- Г) реки и ледници

15. Каква информация за реката липсва на картосхемата?

- А) за устието на реката
- Б) за водосборния басейн на реката
- В) за десните притоци на реката
- Г) за пълноводието и маловодието на реката



16. Допълнете липсващото понятие.

В условията на умерен климат и предимно тревиста растителност се образуват _____ почви, които се отличават с високо плодородие.

17. Подредете с цифри от 1 до 7 последователността, по която се описва природна зона.

- ___ растителност и животински свят
- ___ климат и води
- ___ почви
- ___ релеф
- ___ условия за живот
- ___ географско положение и обхват

18. В кой от континентите НЕ е типична природната зона, представена на изображението?

- А) Африка
- Б) Австралия
- В) Азия
- Г) Европа



19. Заради човешката дейност на всеки 20 минути от лицето на Земята изчезна един растителен или животински вид. Спасяването им не е възможно без специални мерки като залесяване, забрана на незаконния лов и опазване в:

- А) изолация
- Б) резервати
- В) комплекси
- Г) зоопаркове

20. Природните фактори са сред основните, които определят развитието на стопанска дейност като:

- А) земеделие
- Б) търговия
- В) самолетостроене
- Г) здравеопазване

Максимален възможен брой точки: _____ Индивидуален брой точки: _____
 По скалата за оценяване от _____ до _____ точки. Оценка: _____
 Подпис на учителя: _____

ОТГОВОРИ НА ТЕСТОВЕТЕ ЗА ВХОДНО НИВО И СИСТЕМА ЗА ОЦЕНЯВАНЕ

№ на въпрос	ТЕСТ 1	ТЕСТ 2	Брой точки
1	В) по разстоянието от Слънцето	Б) големината	1
2	В) кълбовидната форма на Земята	Б) кълбовидната форма на Земята	1
3	В) На 22 декември в Южното полукълбо започва лятото.	В) На 22 юни в Южното полукълбо започва лятото.	1
4	А) мантията	А) земната кора	1
5	атмосфера, хидросфера, литосфера, биосфера	атмосфера, хидросфера, литосфера, биосфера	4
6	Б) варовик	В) гранит	1
7	Б) Образувани са от вътрешните земни сили.	Б) Образувани са от външните земни сили.	1
8	вълни, хидрограма, блато; хидросфера	Лавразия, земетресение, вулканизъм; литосфера	4
9	плато	плато	1
10	Те са находища на изкопаеми горива.	Те са нерудни полезни изкопаеми.	2
11	12°C	21°C	2
12	Б) субполярен климатичен пояс	Г) кратко, горещо лято	1
13	Г) Те са причина за образуването на пустини.	Г) Те са причина за образуването на крайбрежни пустини.	1
14	А) ледници, езера, подземни води, реки, блата	Б) морета и океани	1
15	Б) Водосборният басейн на река Камчия	Г) за пълноводието и маловодието на реката	1
16	пустинни почви	черноземни почви	2
17	5 – растителност; 3 – води; 1 – релеф; 4 – почви; 6 – животински свят; 2 – климат.	5 – растителност и животински свят; 3 – климат и води; 4 – почви; 2 – релеф; 6 – условия за живот; 1 – географско положение и обхват.	3
18	Б) Австралия	Г) Европа	1
19	В) национален парк	Б) резервати	1
20	Б) целулозно-хартиена промишленост	А) земеделие	1
Общ брой точки:			31

СКАЛА ЗА ОЦЕНЯВАНЕ ПРИ МАКСИМАЛЕН ВЪЗМОЖЕН БРОЙ 31 ТОЧКИ

ОТНОСИТЕЛЕН ДЯЛ	БРОЙ ТОЧКИ	ОЦЕНКА
до 25%	до 8	Слаб 2
26 – 40%	9 – 12	Среден 3
41 – 60%	13 – 18	Добър 4
61 – 80%	19 – 24	Много добър 5
81 – 100 %	25 – 31	Отличен 6